






Otrzymanym wynikom odpowiadają litery. Wpisz je w odpowiednie miejsca do diagramu. (diagram znajduje się na tablicy interaktywnej i jest wspólny dla wszystkich uczniów). Rozwiązaniem jest imię , nazwisko i kraj z którego pochodzi matematyk.

H
M
T
B
D

→	2,3	+		=	-3,2
→		-	$-\frac{3}{4}$	=	-5
→	-4,8	-		=	-2,63
→		-	$(-1\frac{1}{3})$	=	-7,9
→	-8	+		=	-1,38